


# Математика








# Время. Единицы времени



Учитель начальных  
классов:  
Лобарева Н. Н.





**Нет времени.**

**Время летит.**



**Время как резиновое.**

**Тратить время.**

**Убить время.**

**Времени хоть отбавляй.**

**Экономить время.**





**Время.**

**Единицы измерения  
времени.**



# Единицы измерения времени



**Тысячелетие**

**Век**

**Год**

**Месяц**

**Неделя**

**Сутки**

**Час**

**Минута**

**Секунда**





Незнайка сочинял стихи  
о своих друзьях **2 минуты и**  
**17 секунд**. Сколько секунд  
он занимался **137**  
этой трудной работой? **сек**




Пончик тоже сочинял стихи,  
но он занимался этой работой  
**200 сек**. Кто из них быстрее  
справился с заданием?





**2 мин 17сек < 200 сек**





- 1 век → 100 лет
- 1 год → 12 мес
- 1 сут → 24 ч
- 1 ч → 60 мин
- 1 мин → 60 с
- 1 неделя → 7 сут
- 1 месяц → 30 сут или 31 сут (в феврале 28 или 29)





1 век = 100 лет

1 год = 365 или 366 сут = 12 мес


1 сут = 24 ч

1 ч = 60 мин

1 мин = 60 с

1 неделя = 7 сут

1 месяц = 30 сут или 31 сут  
(в феврале 28 или 29)











**СРАВНЕНИЕ,  
СЛОЖЕНИЕ И ВЫЧИТАНИЕ  
ЕДИНИЦ ВРЕМЕНИ.**








$$5\text{ч}28\text{мин} - 2\text{ч}16\text{мин} = 3\text{ч}12\text{мин}$$






$$4ч53мин + 1ч45мин = 6ч38мин$$





$$14 \text{ мин } 6 \text{ с} + 7 \text{ мин } 24 \text{ с} = \\ 21 \text{ мин } 30 \text{ с}$$



## ФИЗМИНУТКА

"Часики" - повороты глазами влево - вправо без поворота головы.

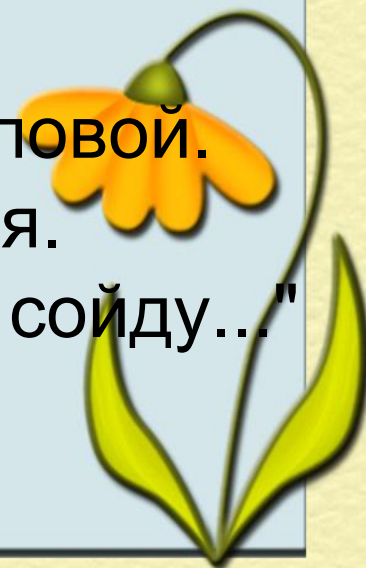

"Маятник" - наклоны туловища влево и вправо, а затем вперед и назад.

"Колёсики" - круговые движения согнутыми в локтях и приставленными к плечам руками.

"Будильник" - хлопки над головой.

"Пружинка" - приседания.

"Часы идут, идут, а с места не сойду..."  
- ходьба на месте.



## Задача № 5

**2 ч 15 мин дня = 14 ч 15 мин**

**Решение:**

1)  $14 \text{ ч } 15 \text{ мин} - 6 \text{ ч } 40 \text{ мин} = 7 \text{ ч } 35 \text{ мин}$

Ответ: Максима не было дома 7 ч 35 мин





# РЕФЛЕКСИЯ

1. Как вы оцениваете свою работу?
2. Что у вас получилось лучше всего?

3. Выполнение каких заданий вызвало у вас затруднение?






## **Домашнее задание.**

Работа по учебнику стр. 63 № 6;  
стр. 64 № 12 (а);







**Спасибо за урок!**